


# MATHEMATIQUES - Evaluation

1. Observe le dessin puis complète les phrases en t'aidant des étiquettes.



dans sur sous entre devant derrière  
au-dessus au-dessous à droite à gauche

Le poisson est ..... l'aquarium.

Le cadre photo est ..... du vase.

La clé est ..... du chat.

La souris est ..... la poubelle.

Le vase est ..... le réveil et le cadre.

L'aquarium est ..... du vase.

La clé est ..... de l'aquarium.





La balle est ..... le chat.

Nom / Prénom : .....





Date : .....

# MATHEMATIQUES - Evaluation





2.

	A	B	C	D
1				
2				
3				
4				





a . Complète

-  (... ; ...)
-  (... ; ...)
-  (... ; ...)
-  (... ; ...)





b. Place dans le quadrillage

-  (B ; 2)
-  (C ; 4)
-  (D ; 1)
-  (A ; 3)





3.

	A	B	C	D	E
1					
2					
3					
4					

a. Complète

-  (... ; ...)
-  (... ; ...)
-  (... ; ...)
-  (... ; ...)

b. Place dans le quadrillage.

-  (A ; 3)
-  (C ; 1)
-  (D ; 4)
-  (A ; 4)

Nom / Prénom : .....

Date : .....