

★★ MON PAPILLON

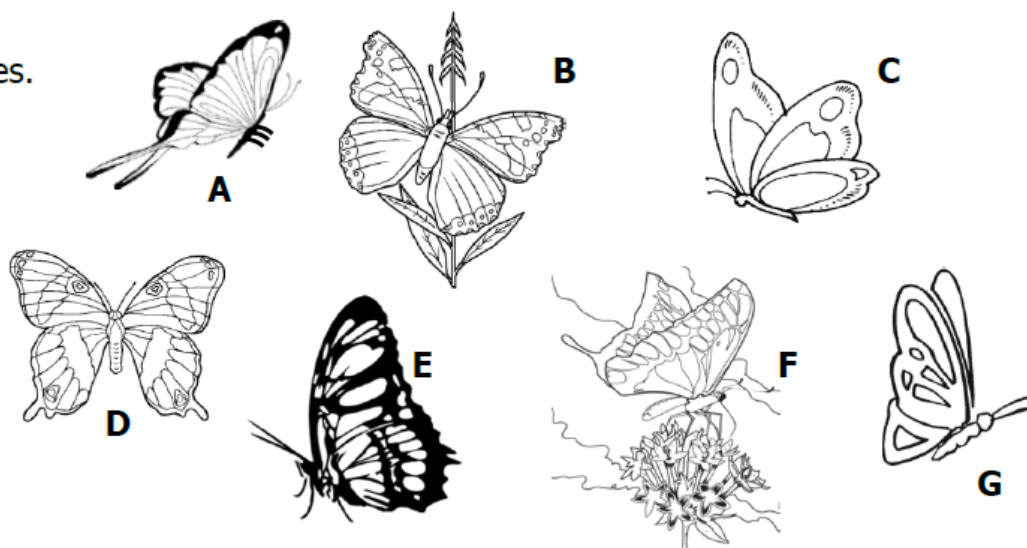
Mon papillon a des antennes.

Il va vers la droite.

Il n'est pas sur une fleur.

Il est de profil.

On ne voit pas ses pattes.



Source IUFM Auvergne

★★ DRÔLES DE CALCULS

Chaque fois Élodie fait le même calcul avec les nombres donnés par Tanguy.

Si Tanguy dit « 2 et 4 », Élodie répond « 7 »

Si Tanguy dit « 5 et 3 », Élodie répond « 9 »

Si Tanguy dit « 3 et 5 » Élodie répond « 9 »

Si Tanguy dit « 9 et 7 », Élodie répond « 17 »

Tanguy dit « 1 et 8 ».

Que répond Élodie ?

Source IUFM Auvergne

★★ ZYK L'EXTRA-TERRESTRE

Zyk est un élève extraterrestre qui a fait toutes ses opérations justes.

$$4 \text{ ж } 2 = 5$$

$$8 \text{ ж } 6 = 11$$

$$3 \text{ ж } 2 = 4$$

$$3 \text{ ж } 4 = \dots$$

Trouve le résultat de sa dernière opération.

Source IUFM Auvergne

★★ L'ADDITION EXTRA-TERRESTRE

Glup montre ses opérations au maître.

Sur sa planète, elles sont justes.

$$3 \oplus 2 = 7$$

$$5 \oplus 4 = 11$$

$$1 \oplus 6 = 9$$

$$4 \oplus 3 = \dots$$


Trouve son dernier résultat.



Source IUFM Auvergne

41. ★★ GRIBOUILLE LA SOURIS

La souris Gribouille a mélangé tous les jetons. Il manque un jeton, lequel ?



Source IUFM Auvergne

42.

★★★ CACHE-CACHE DES BESTIOLES

Chaque bestiole cache un nombre. Chaque bestiole cache toujours le même.

$$\begin{array}{ccccccccc}
 \text{Ladybug} & + & \text{Fly} & + & \text{Ladybug} & + & \text{Ladybug} & + & \text{Ladybug} & = & 12 \\
 \text{Ladybug} & + & \text{Ladybug} & + & \text{Ladybug} & + & \text{Ladybug} & + & \text{Ladybug} & = & 10 \\
 \text{Frog} & + & \text{Frog} & + & \text{Fly} & + & \text{Fly} & + & \text{Ladybug} & = & 12 \\
 \text{Fly} & + & \text{Ladybug} & + & \text{Butterfly} & + & \text{Ladybug} & + & \text{Frog} & = & 12 \\
 \text{Butterfly} & + & \text{Spider} & + & \text{Frog} & + & \text{Butterfly} & + & \text{Spider} & = & 17
 \end{array}$$

Quel nombre chaque bestiole a-t-elle caché ?

Source IUFM Auvergne

★★★ LES ADDITIONS TACHÉES

Olivier a fait des tâches sur ses opérations.

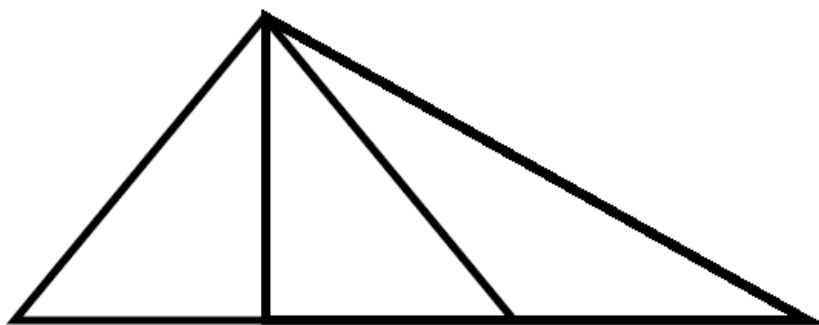
$$\begin{array}{r}
 26 \\
 + \text{tâche} \\
 \hline
 29
 \end{array}
 \qquad
 \begin{array}{r}
 2 \\
 + \text{tâche} \\
 \hline
 17
 \end{array}$$

Réécris les opérations sur la feuille réponse.

Source IUFM Auvergne

★★★ LES TRIANGLES


Combien y a-t-il de triangles ?



Source IUFM Auvergne

★★★ SOUVENIRS DE JURASSIK PARK

Un touriste a photographié des dinosaures à Jurassic Park.
Les photos se ressemblent, mais elles sont toutes différentes.

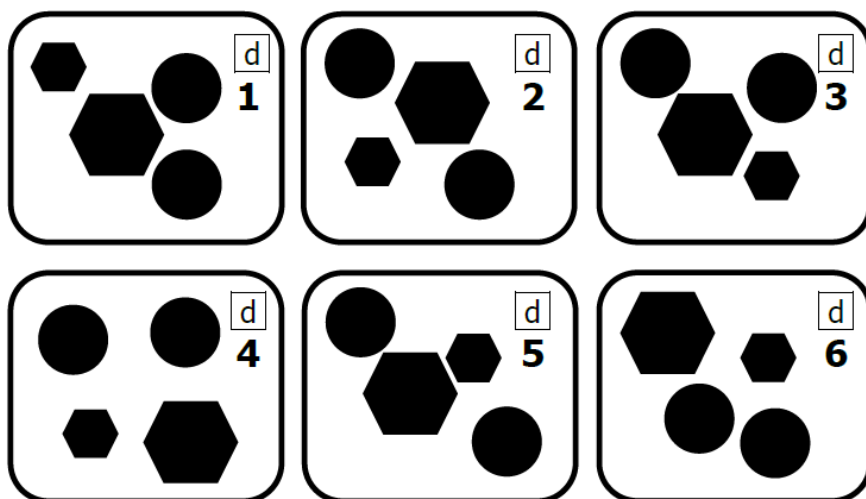


Place les dinosaures dans le bon ordre sur la dernière photo ?

Source IUFM Auvergne

★★★ LA FORÊT DES DINOSAURES

Le dinosaure volant regarde du ciel.



Que voit le dinosaure, donne le numéro du bon endroit ?

Source IUFM Auvergne

47. ★★★ LA MAISON DE MAGALI

Magali explique à Nicolas comment trouver sa maison :

Ma maison à 5 fenêtres.

Il n'y a pas de carreaux.

La porte est au milieu de la maison.

La cheminée est à droite.

Aide Nicolas à retrouver la maison de Magali en donnant son numéro.



1



2



3



4



5



6



7



8



9



10



11



12




Source IUFM Auvergne

48.

★★★ ACHAT PAR LOTS

Le prix de chaque lot est écrit en dessous.

Quel est le prix du dernier lot ?

 <p>9 €</p>	 <p>8 €</p>	 <p>? €</p>
---	---	---

Source IUFM Auvergne