









TACTIQUE !

PLANCHE 1



Les Blancs jouent et gagnent dans tous les diagrammes. Saurez-vous trouver le thème tactique qui permet le gain ? (les Pions blancs montent vers la huitième rangée, Les noirs descendent vers la première).





Vos solutions :

- 01 : .
- 02 : .
- 03 : .
- 04 : .
- 05 : .
- 06 : .
- 07 : .
- 08 : .
- 09 : .
- 10 : .
- 11 : .
- 12 : .
- 13 : .
- 14 : .
- 15 : .