

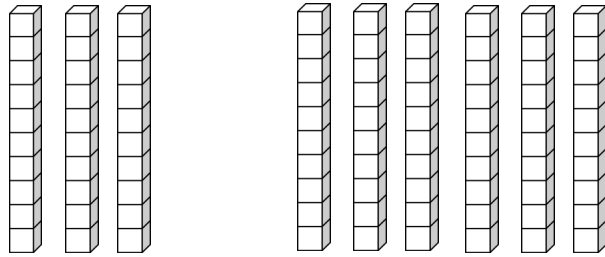
Mathématiques ce1

Additionner sur des dizaines entières

Écris sous chaque paquet le nombre représenté.

Colorie le chiffre des dizaines en rouge et le chiffre des unités en bleu.

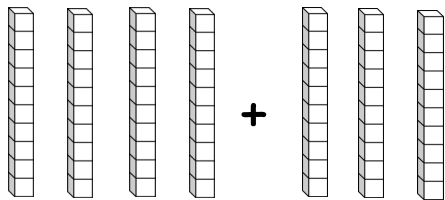
Maintenant calcule et utilise les mêmes couleurs pour ton résultat. Que remarques-tu ?



+ =

$$50 + 30 = 80$$

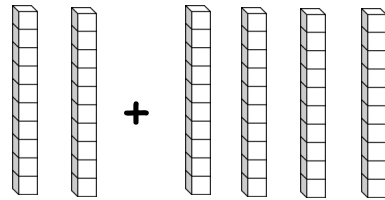
A toi de calculer. Utilise des couleurs si cela te semble plus facile.



+

+

=



+

+

=

$30 + 40 =$

$50 + 20 =$

$10 + 50 =$

$20 + 40 =$

$20 + 70 =$

$30 + 30 =$

$20 + 30 =$

$40 + 40 =$

$10 + 80 =$

$10 + 70 =$