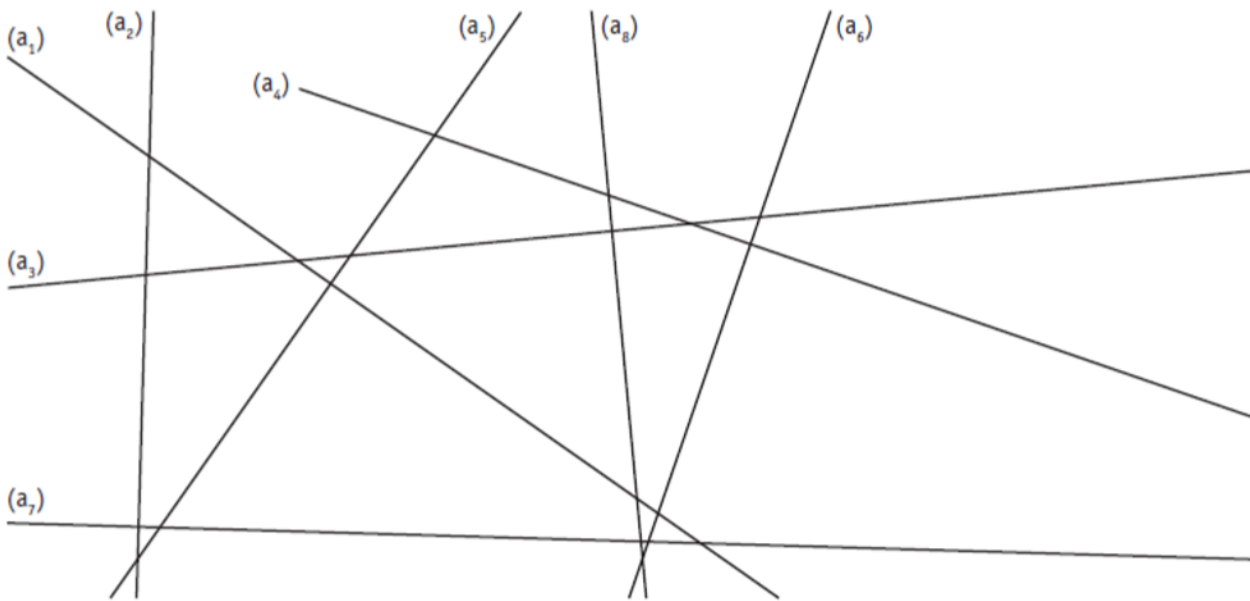


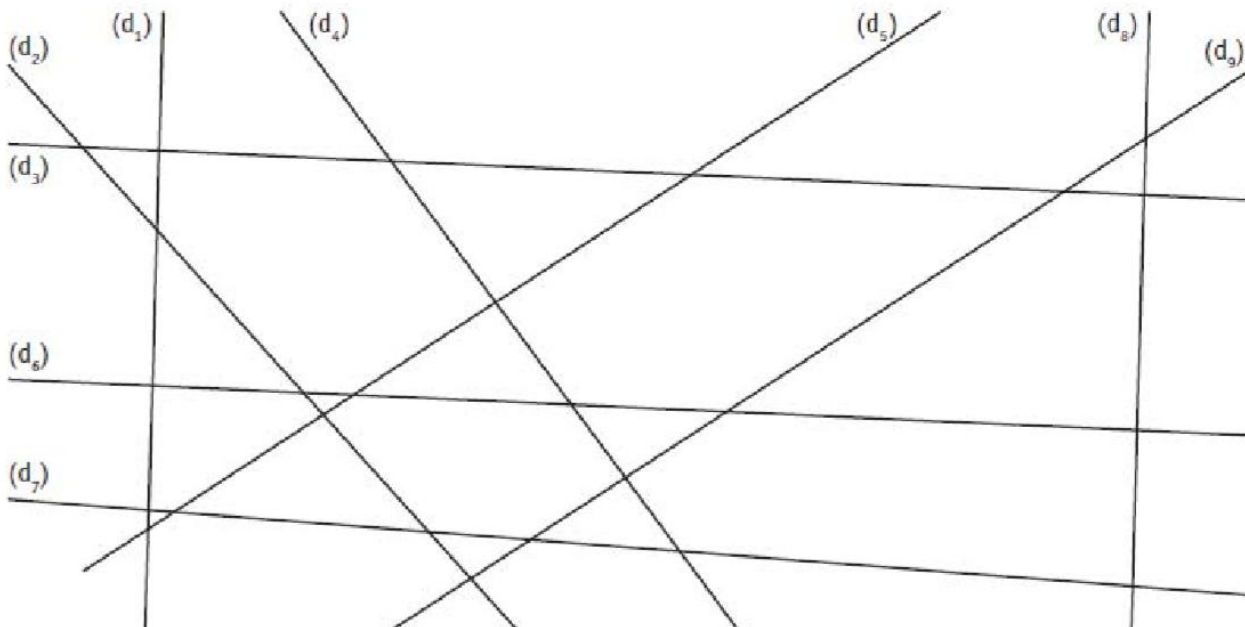
Evaluation n° __ de Géométrie

Compétences		Note :
- Identifier les droites perpendiculaires et marquer les angles droits.		20
- Identifier les droites parallèles entre elles.		
- Tracer des droites perpendiculaires et parallèles à l'équerre.		
- Connaître le vocabulaire de la géométrie		
- Suivre un programme de construction		
Commentaires :		

Exercice 1 : Repasse au bleu les droites perpendiculaire et marque l'angle droit /4



Exercice 2 : Repasse en couleur les droites qui sont parallèles entre elles. /3



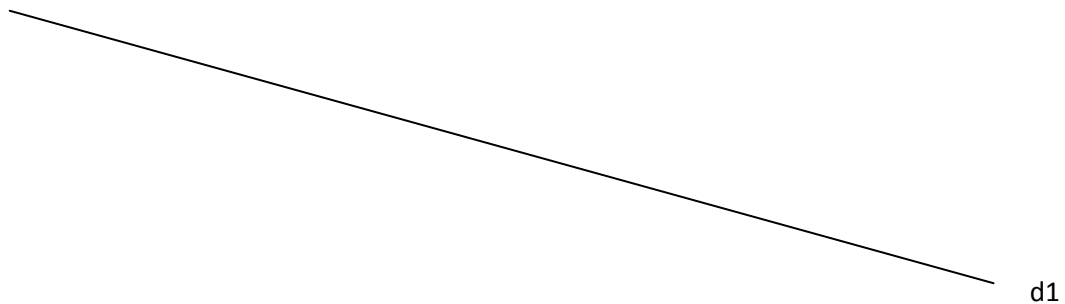
Exercice 3 : Trace la droite perpendiculaire à d1 qui passe aussi par le point A

/2



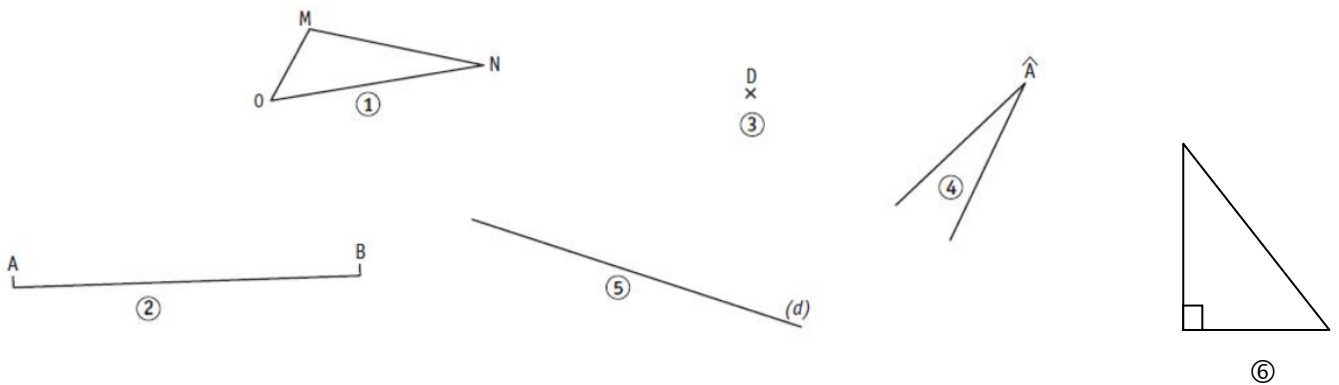
Exercice 4 : Trace la droite parallèle à d1 qui se trouve à 3 cm de distance

/2



Exercice 5 : Associe chaque figure au mot correspondant

/6



- | | | | |
|-----------------------------------|---------|-------------------------|---------|
| a. C'est un point | → | b. C'est un segment | → |
| c. C'est une droite | → | d. C'est un angle | → |
| e. C'est une figure à trois côtés | → | f. C'est un angle droit | → |

Exercice 6 : Réalise le programme de construction

/3

- Trace un segment [AB] de 3 cm de long.
- Place un point J au milieu de ce segment [AB]
- Trace une droite (d) qui passe par J et qui coupe [AB]

Pour l'évaluation de géométrie des CM1, tu dois être capable de :

- identifier des droites perpendiculaire avec l'équerre et marquer l'angle droit
- identifier des droites parallèles
- tracer des droites perpendiculaires et parallèles à l'aide de l'équerre
- utiliser sans erreur le vocabulaire de géométrie (segment, angle, côtés)
- suivre un programme de construction simple (cf exercice sur le cahier)

Pour l'évaluation de géométrie des CM1, tu dois être capable de :

- identifier des droites perpendiculaire avec l'équerre et marquer l'angle droit
- identifier des droites parallèles
- tracer des droites perpendiculaires et parallèles à l'aide de l'équerre
- utiliser sans erreur le vocabulaire de géométrie (segment, angle, côtés)
- suivre un programme de construction simple (cf exercice sur le cahier)

Pour l'évaluation de géométrie des CM1, tu dois être capable de :

- identifier des droites perpendiculaire avec l'équerre et marquer l'angle droit
- identifier des droites parallèles
- tracer des droites perpendiculaires et parallèles à l'aide de l'équerre
- utiliser sans erreur le vocabulaire de géométrie (segment, angle, côtés)
- suivre un programme de construction simple (cf exercice sur le cahier)

Pour l'évaluation de géométrie des CM1, tu dois être capable de :

- identifier des droites perpendiculaire avec l'équerre et marquer l'angle droit
- identifier des droites parallèles
- tracer des droites perpendiculaires et parallèles à l'aide de l'équerre
- utiliser sans erreur le vocabulaire de géométrie (segment, angle, côtés)
- suivre un programme de construction simple (cf exercice sur le cahier)

Pour l'évaluation de géométrie des CM1, tu dois être capable de :

- identifier des droites perpendiculaire avec l'équerre et marquer l'angle droit
- identifier des droites parallèles
- tracer des droites perpendiculaires et parallèles à l'aide de l'équerre
- utiliser sans erreur le vocabulaire de géométrie (segment, angle, côtés)
- suivre un programme de construction simple (cf exercice sur le cahier)

Pour l'évaluation de géométrie des CM1, tu dois être capable de :

- identifier des droites perpendiculaire avec l'équerre et marquer l'angle droit
- identifier des droites parallèles
- tracer des droites perpendiculaires et parallèles à l'aide de l'équerre
- utiliser sans erreur le vocabulaire de géométrie (segment, angle, côtés)
- suivre un programme de construction simple (cf exercice sur le cahier)