



Lire l'heure

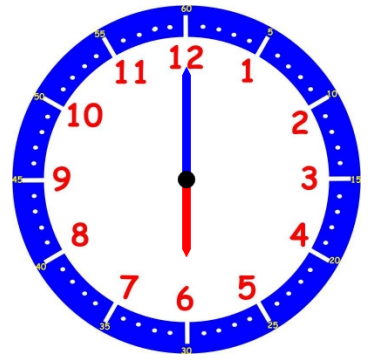
1) Coche l'heure indiquée sur chaque horloge :



- 9 h 6 min
- 21 h 30 min
- 9 h et demie
- 6 h moins le quart



- 2 h moins le quart
- 2 h 45 min
- 9 h et quart
- 14 h 45 min



- 18 h
- 6 h
- 6 h et demie
- 18 h 12 min



- 20 h 15 min
- 20 h 45 min
- 8 h moins le quart
- 9 h moins le quart

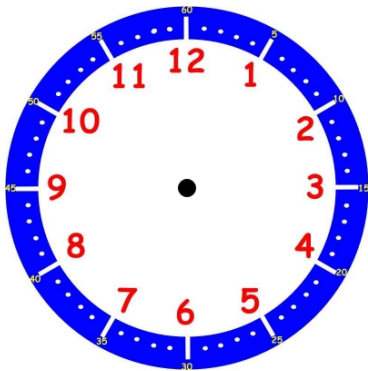


- 23 h 15 min
- 15 h
- 11 h moins le quart
- 11 h et quart

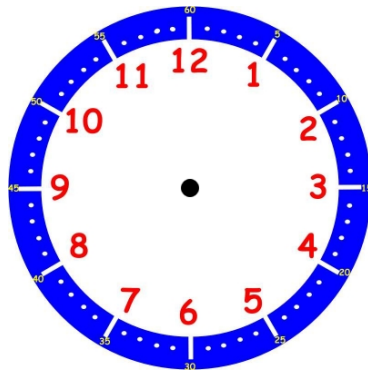


- 5 h 3 min
- 17 h 15 min
- 5 h et quart
- 5 h moins le quart

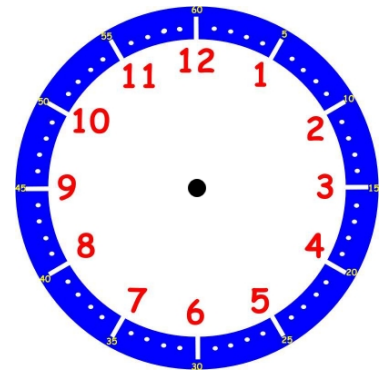
2) Dessine les aiguilles pour indiquer l'heure sur chaque horloge :



18 h 15 min



4 h moins le quart



midi et demie