




Problèmes : barre ou dessine puis fais une opération (+ ou -)

①



C'est l'anniversaire de lili.

Quel est son âge ?


*lili a ..... ans.*

Lili a soufflé 5 bougies.  
Combien de bougies sont restées allumées ?

..... = .....

*Il y a encore .....  
bougies allumées.*

②



Lola a déjà mis une bougie sur son gâteau.

Sa maman en rajoute 6.


Quel âge a Lola ?

..... = .....

*Lola a ..... ans.*

③ Barre ou dessine des bonbons :

Voici les bonbons de Marilou :




La mamie de Marilou lui donne encore 7 bonbons.  
Combien Marilou a-t-elle de bonbons ?

..... = .....

*Marilou a ..... bonbons.*

④ Barre ou dessine des bonbons :

Voici les bonbons de Théo :



Théo mange 7 bonbons.  
Combien Théo a-t-il de bonbons ?

..... = .....

*Théo a ..... bonbons.*