
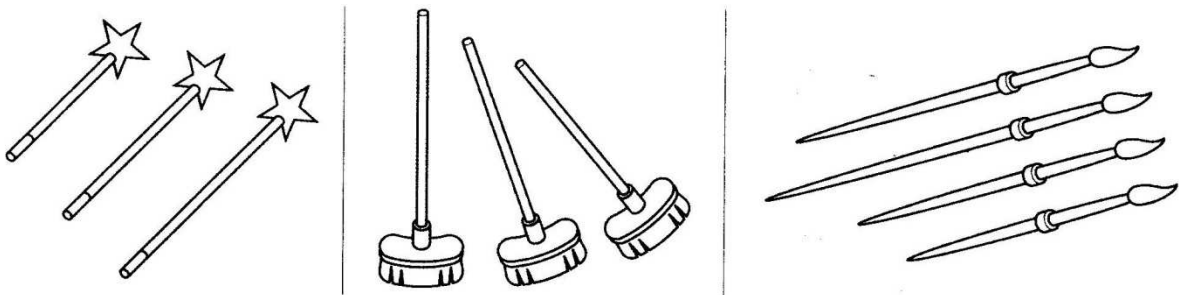


1. Quel est l'objet le plus long ? Colorie-le.

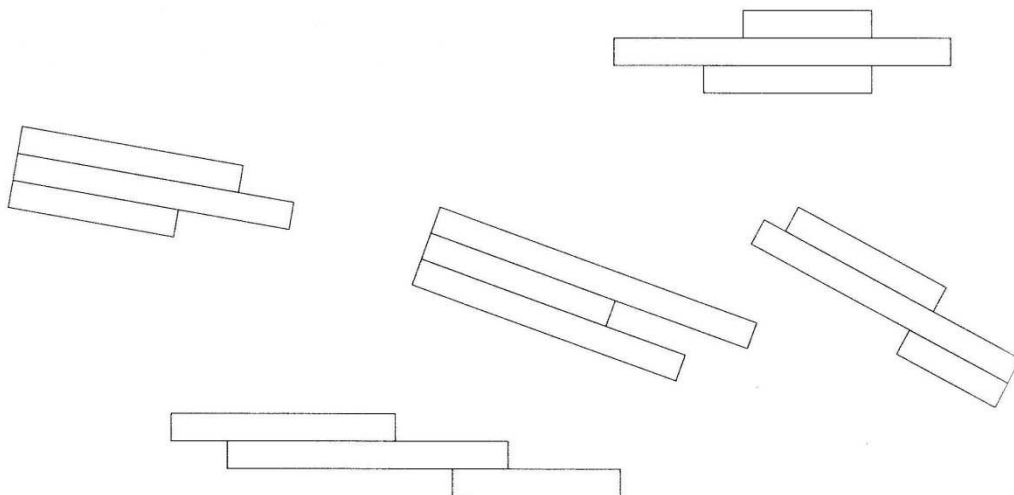


2. Quel est l'objet le plus court ? Colorie-le.



3. Colorie chaque fois :

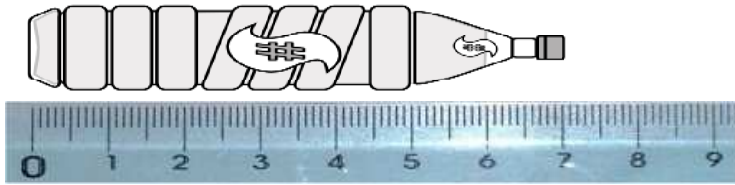
- en bleu la plus longue des 3 bandes
- en jaune la plus courte des 3 bandes.



Prénom :

Date :

1. Combien mesure la bouteille ?



.....cm

2. Je mesure chaque segment.



.....cm



.....cm



.....cm



.....cm



.....cm



.....cm



.....cm

Prénom :

Date :

Mesure chaque segment et range du plus petit au plus grand.

A



..... cm

B



..... cm

D



..... cm

C



..... cm

E



..... cm

F



..... cm

H



G



..... cm

..... cm

.....
-------	-------	-------	-------	-------	-------	-------	-------

Prénom :

Date :